

ШЕСТИ РАЗРЕД ОПШТИНСКО ТАКМИЧЕЊЕ 2016.

Број поена

ШИФРА _____

КОМИСИЈА _____

ТЕСТ ЗНАЊА

ЗА VI РАЗРЕД ОСНОВНЕ ШКОЛЕ

ИСТОРИЈА

ОПШТИНСКО ТАКМИЧЕЊЕ

2016. ГОДИНЕ

УПУТСТВО ЗА РАД

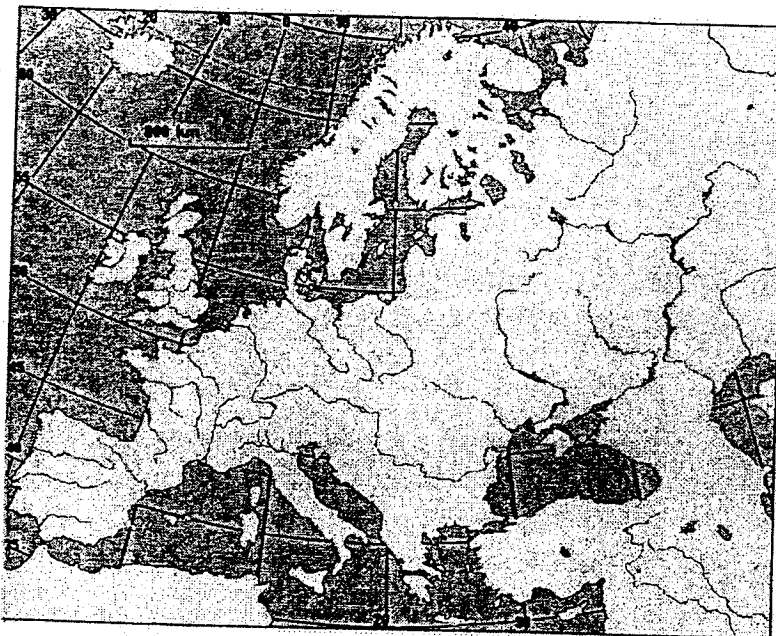
1. Свако питање пажљиво прочитај да би га потпуно разумео.
2. Ако неко питање не можеш одмах да решиш, не губи време већ пређи на следеће, а касније се врати решавању прескоченог питања.
3. Потруди се да на свако питање одговориш тачно и потпуно.
4. Питања ради самостално и не ометај друге ученике.
5. Израда теста траје 60 минута.
6. Тест садржи 15 питања.

Тест обавезно попуни хемијском оловком, јер се у противном одговори неће признати!

ШЕСТИ РАЗРЕД ОПШТИНСКО ТАКМИЧЕЊЕ 2016.

1. Број испред понуђеног појма упиши на одговарајуће место на карти и ако је град обележи бројем и тачком.

1. седиште поглавара католичке цркве
2. седиште цара Источног Римског Царства
3. Држава Визигота
4. Држава Франака
5. Родни град византинских мисионара из IX века



2. Пажљиво прочитај објашњење и упиши на који се појам објашњење односи.

1. Он полаже заклетву сениору. _____
2. Он је по рангу изнад епископа, а испод патријарха _____
3. То је стил градње код кога су лукови заобљени. _____
4. То је полуострво на коме је пророков град. _____

3. Наведене догађаје уредите по хронолошком реду:

(бројем 1 означи догађај који се први догодио)

- ___ оснивање престонице Источног Римског Царства
- ___ оснивање треће једнобожачке вере
- ___ настанак најстаријег српског данас сачуваног ћириличног документа
- ___ почетак мисионарске делатности солунске браће
- ___ нестанак народа који је започео Велику сеобу

4. Заокружите Т ако је исказ тачан, а Н ако је исказ нетачан

- а) Власима су Словени називали романско становништво на Балкану.
- б) Византија је одбранила престоницу од крсташа у XIII веку.
- в) Византијом је владала само једна династија од VII до XV века.
- г) Срби су припадали византинској културној области.

Т	Н
Т	Н
Т	Н
Т	Н

ШЕСТИ РАЗРЕД ОПШТИНСКО ТАКМИЧЕЊЕ 2016.

5. Од понуђених народа подвуци оне који су живели или живе на простору Панонске низије?

Грци, Чеси, Руси, Мађари, Јермени, Бугари, Хуни, Авари

6. Од понуђених комбинација одабери једну која је хронолошки тачна, заокружи број испред тачног одговора.


1. Сабор у Дежеву– Сабор у Расу– Сабор у Серу.
2. Сабор у Расу – Сабор у Дежеву – Сабор у Серу.
3. Сабор у Серу – Сабор у Дежеву – Сабор у Расу
4. Сабор у Дежеву – Сабор у Серу – Сабор у Расу.

7. Поред догађаја упиши годину:


- а) Од када српски владари не носе титулу великог жупана? _____ године
б) Када је нарушено правило „Један је бог на небу, један је цар на земљи“? _____ године
в) Када се одиграла битка након које је преминуо бугарски цар Самуило? _____ године

8. Пажљиво погледај слике манастира и одговори на питања.

- а) Који је манастир на слици?
б) Ко је ктитор манастира?
в) Коју је титулу носио деда ктитора манастира?



1. а) _____
б) _____
в) _____



2. а) _____
б) _____
в) _____

9. Поред народа упиши ког је порекла тај народ, којој групи племена припада.

1. Авари _____
2. Пољаци _____
3. Мађари _____
4. Англи _____

ШЕСТИ РАЗРЕД ОПШТИНСКО ТАКМИЧЕЊЕ 2016.

10. Повежи појмове са њиховим значењем. Број испред појма упиши на линију испред објашњења које га описује.

- | | |
|------------|---------------------------------|
| 1. пронија | a) _____ земљишни посед |
| 2. тема | b) _____ титула |
| 3. каган | v) _____ административна област |

11. На карти су уцртане српске државе. Напиши која је означена којим бројем и њене границе.



1. _____
2. _____
3. _____
4. _____

12. Повежи личности и догађаје. Број испред имена личности упиши на линију испред догађаја.

- | | |
|----------------------|---|
| 1. Јован Без Земље | a) _____ покретање крсташки ратова |
| 2. папа Урбан | b) _____ увођење парламента |
| 3. Фридрих Барбароса | v) _____ учешће у Трећем крсташком рату |

13. Попуни табелу сврставајући понуђене појмове:

Константин Велики, Карло Велики, Јустинијан, Атила, Ричард Лавље Срце, цар Теодосије I

стари век	средњи век

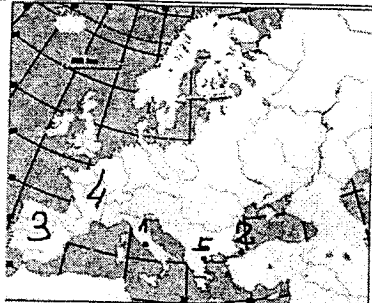
14. Попуни табелу подацима који недостају:

Владар	Држава	Век владавине
Михаило Војислављевић		
Часлав Клонимировић		
Властимир		

15. Од понуђених тврдњи заокружи бројеве испред оних које се односе на владавину Стефана Немање.

1. Узурпацијом је дошао на власт.
2. Имао је сина за савладара.
3. Уздигао је ранг цркве.
4. Синови су му били биографи.
5. Савременик првог босанског бана.
6. Био је вазал Угарске.

**РЕШЕЊЕ ТЕСТА ЗА ОПШТИНСКО ТАКМИЧЕЊЕ ИЗ ИСТОРИЈЕ
ШЕСТИ РАЗРЕД - 2016**

1.		5 БОДОВА, СВАКИ УЦРТАН ПОЈАМ ПО ПОЕН												
2.	1. ВАЗАЛ. 2. АРХИЕПИСКОП 3. РОМАНИКА 4. АРАБИЈСКО	4 бода												
3.	1 3 5 4 2	3/0												
4.	Т Н Н Т	4												
5.	Мађари, Хуни, Авари (ако подвуче један погрешан 0 бодова)	1 сви народи 1 бод												
6.	2. Сабор у Расу – Сабор у Дежеву – Сабор у Серу.	1 бод												
7.	а) 1217. године б) 800. године в) 1014. године	1+1+1 укупно 3												
8.	1. а) Милешева б) Владислав в) Велики жупан 2. а) Грачаница б) Милутин в) велики жупан и краљ	све тачно под 1. један бод. све тачно под 2. један бод укупно 2 бода												
9.	1. турског 2. словенског 3. угрофинског 4. германског	1+1+1+1 укупно 4												
10.	а) 1 б) 3 в) 2	све тачно 1 бод												
11.	1. Паганија/ Неретљанска од Цетине до Неретве (1 бод) 2. Захумље(Хум) од Неретве до Дубровника (1 бод) 3. Травунија од Дубровника до Котора (Боке Которске) (1 бод) 4. Дукља(Зета) до Котора (Боке Которске) до Бојане (1 бод)	да би се добио поен потребноје навести и област и границе! укупно 4 бода												
12.	а) 2 б) 1 в) 3	укупно 1 поен сва три тачна												
13.	<table border="1" style="width:100%"> <thead> <tr> <th>стари век</th> <th>средњи век</th> </tr> </thead> <tbody> <tr> <td>Константин Велики</td> <td>Карло Велики</td> </tr> <tr> <td>Атила</td> <td>Јустинијан</td> </tr> <tr> <td>цар Теодосије I</td> <td>Ричард Лавље Срце</td> </tr> </tbody> </table>	стари век	средњи век	Константин Велики	Карло Велики	Атила	Јустинијан	цар Теодосије I	Ричард Лавље Срце	колона стари век: све тачно 1 бод колона средњи век све тачно 1 бод укупно 2 бода				
стари век	средњи век													
Константин Велики	Карло Велики													
Атила	Јустинијан													
цар Теодосије I	Ричард Лавље Срце													
14.	<table border="1" style="width:100%"> <thead> <tr> <th>Владар</th> <th>Држава</th> <th>век владавине</th> </tr> </thead> <tbody> <tr> <td>Михаило Војислављевић</td> <td>Дукља</td> <td>11.</td> </tr> <tr> <td>Часлав Клонимировић</td> <td>Србија (Рашка)</td> <td>10.</td> </tr> <tr> <td>Властимир</td> <td>Србија (Рашка)</td> <td>9.</td> </tr> </tbody> </table>	Владар	Држава	век владавине	Михаило Војислављевић	Дукља	11.	Часлав Клонимировић	Србија (Рашка)	10.	Властимир	Србија (Рашка)	9.	тачна хоризонтала у табели 1 бод укупно 3 бода
Владар	Држава	век владавине												
Михаило Војислављевић	Дукља	11.												
Часлав Клонимировић	Србија (Рашка)	10.												
Властимир	Србија (Рашка)	9.												
15.	потребно је да заокруже 1, 4, 5. (ако се заокружи један погрешан 0 бодова)	2/0 сва три тачно заокружена 2 бода												
<p align="center">Прво место од 40-38 Друго место 37-35 Треће место 34-32</p>		укупно 40 бодова												